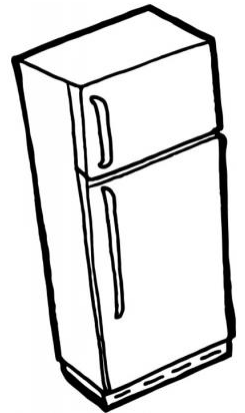


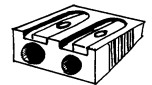


1. Écris son nom sous chaque objet. Entoure en bleu les appareils qui fonctionnent avec une prise électrique et en jaune les appareils qui fonctionnent avec des piles.



www.tutorbazart.fr



2. Que remarques-tu parmi les objets présentés ?

3. Trouve deux autres appareils électriques qui fonctionnent

- avec une prise électrique :

- avec des piles :

Leçon n° 1

Parmi les objets qui nous entourent, beaucoup fonctionnent grâce à l'.....

Il y a deux types d'objets électriques :

- ceux qui fonctionnent grâce à des

- ceux qui fonctionnent grâce à une