



Prénom :


date :

Fiche n°3



1 Consigne: Entoure le jeton qui a le plus grand nombre dans chaque paquet.



2 Consigne: Entoure le jeton qui a le plus petit nombre dans chaque paquet.



3 Consigne: Relie les collections au nombre qui correspond. (=)



30

40

36

4 Consigne: Compare et complète avec les signes $<$, $>$ ou $=$.



37

....

29

34

....

14

63

....

36

51

....

60

53

....

38

24

....

42



1 Consigne: Entoure le jeton qui a le plus grand nombre dans chaque paquet.

--	--	--

2 Consigne: Entoure le jeton qui a le plus petit nombre dans chaque paquet.

--	--	--

3 Consigne: Relie les collections au nombre qui correspond. (=)

--	--	--

30	40	36
----	----	----

4 Consigne: Compare et complète avec les signes $<$, $>$ ou $=$.



37 > 29	34 > 14	63 > 36
51 < 60	53 > 38	24 < 42