

## Consignes numération

### Addition et soustraction avec les écritures chiffrées.

Proposer le problème à résoudre sur l'ardoise:

« Lila a 8 billes. Elle en gagne 2. Combien de billes a-t-elle maintenant ? »

Ecrire l'opération à faire, puis le résultat sur leur ardoise.

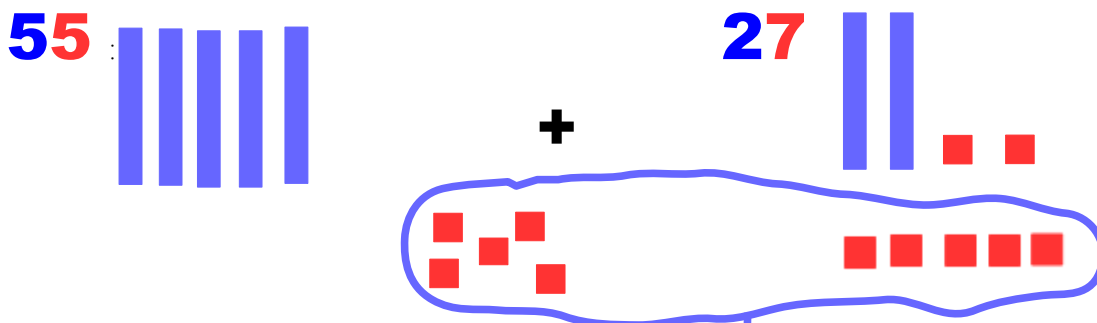
Correction:  $8 + 2 = 10$  phrase réponse: Lila a 10 billes.

Résous maintenant les deux problèmes suivant sur ton ardoise.

#### **Problème 1:**

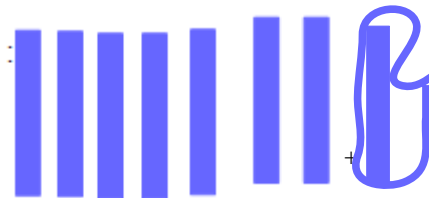
« Lila a 55 billes, elle en gagne 27. Combien de billes a-t-elle maintenant ? »

Aider l'enfant avec la manipulation, ou le dessin. d'composer le nombre en dizaine et unité.



Je mets les dizaines ensemble: ça fait 7 Dizaines plus 1 dizaine entourée = 8 dizaines

Je mets les unités ensemble, il en reste 2




Je peux écrire:  $55 + 27 = 82$

#### **Problème 2:**

« Lila a 72 billes. Elle en gagne 18. Combien de billes a-t-elle maintenant ? »

Dessine les deux nombres sous forme de dizaine et unité.

$$72 + 18 = ?$$



Je compte les dizaines que j'ai en tout: il y en a 9 et 0 unité  $72 + 18 = 90$